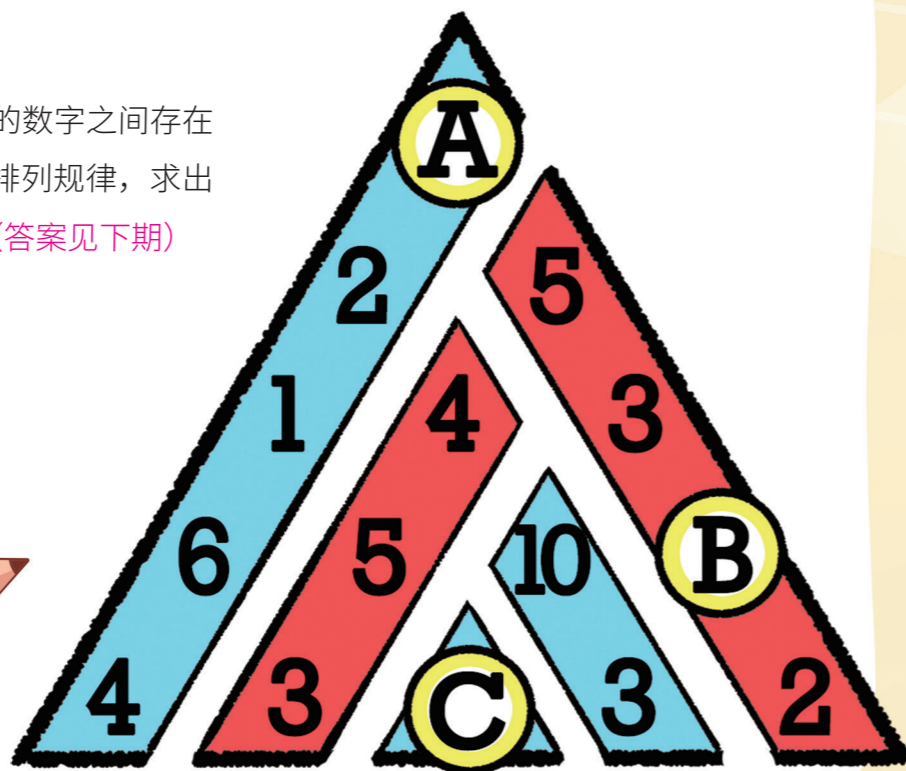


数字摆放规律

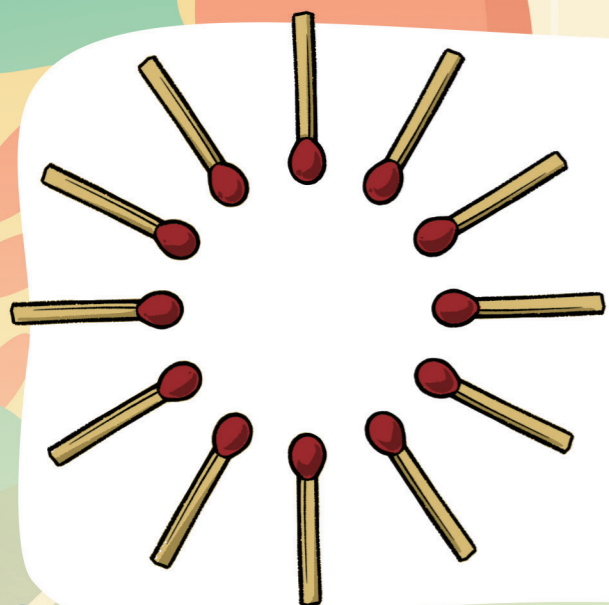
请仔细观察，下图中的数字之间存在某种规律性排列，根据该排列规律，求出 A、B、C 所代表的数值。（答案见下期）



火柴变风车

只要移动图中的 4 根火柴棍，就可以变出 1 个大风车来，应该怎么移动呢？

（答案见下期）



猜车子

停车场里停着白、黑、红三辆新车，李经理让三位同事猜哪辆是他的。


小王指着白车说：“肯定是这辆！”

小张看了看：“不是黑的就是红的。”

小宋很肯定：“应该是红色的。”

李经理听完笑了：“你们三个人里，至少有一个猜对了，但也至少有一个猜错了。”

现在，线索就藏在他们的对话和李经理的提示里。开动脑筋，猜一猜正确的答案吧！你觉得是哪一辆呢？（答案见下期）



上期答案：

《蚂蚁爬墙》：8 天。蚂蚁一天只能向上爬 1 米，本应爬 10 天才能够爬到墙头，但第 8 天它向上爬 3 米时就到墙头了。

《帮小格子找主人》：E。每行前两个格子中的点数相加，得到第三个格子中的点数；每列前两个格子中的点数相减，得到第三个格子中的点数。

《三角猫》：20 个。

《爸爸分苹果》：有机会。女儿可以先拿 1 个苹果吃，吃完了再拿剩下的 2 个苹果。

《玻璃上的弹孔》：左边的弹孔是先射的。因为最先射出的子弹所留下的弹孔，其周围玻璃的扩散没有受到阻碍，即没有断裂。