

蚂蚁爬墙

有一只蚂蚁从墙根往墙头爬。墙高10米，它白天向上爬3米，夜间又滑下2米，请问它几天才能爬到墙头？

(答案见下期)



三角猫

喵喵喵……这有一只可爱的三角猫，它身上有很多三角形。现在，让我们来数数看：总共有多少个三角形？



(答案见下期)




帮小格子找主人

请仔细观察下面的神奇格子，格子中的点数存在着某种特别的关系。请开动小脑筋，猜猜最后的小空格应该是谁呢？A、B、C、D、E 速来认领！

(答案见下期)



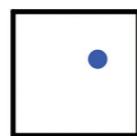
A



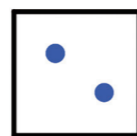
B



C



D



E