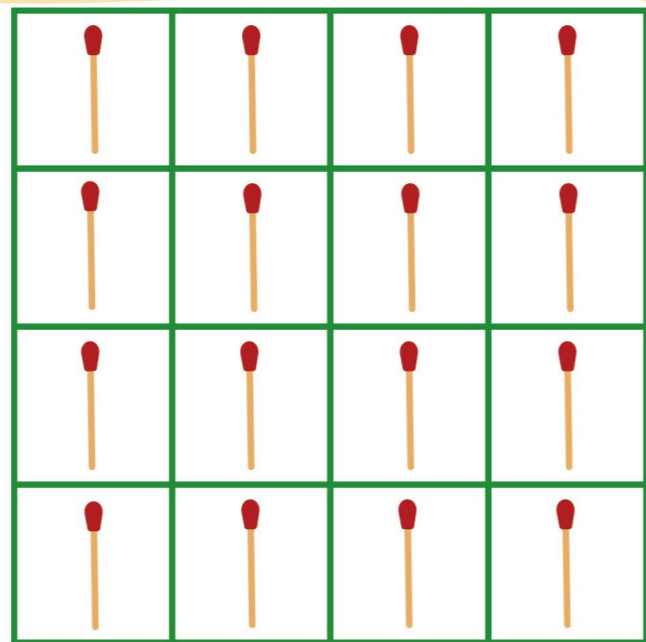


偶数游戏

右图的 16 个方格内各有 1 根火柴，现在从中拿走 6 根，使得每行、每列的火柴数仍然是偶数。你能做到吗？

(答案见下期)



图形知多少

观察右边 3 幅图形，分别指出：图 1 中有多少个梯形？图 2 中有多少个正方形？图 3 中有多少个矩形？

(答案见下期)

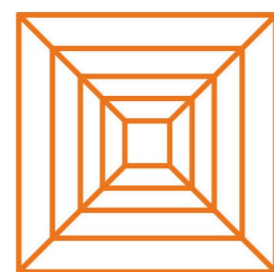


图 1



图 2




图 3

狗、鸡和米的问题

一个人要过河，但他还带着一条狗、一只鸡和一些米。船很小，一次只能带一样，但是当人不在的时候，狗会咬鸡，鸡会吃米。请问这个人要怎样做才能把它们都带过河？


(答案见下期)



上期答案:

●《脚上的数字》：20。仔细观察已知的 5 个数字，你会发现如下规律： $112 \times 5 = 35 \times 16 = 560$ ，因此问号处的数字为 $20(560 \div 28 = 20)$ 。

●《小老鼠的智慧》：



●《寻宝》：

